

2020 年度 自主保全士検定試験 正答例

(2020 年 10 月 25 日実施)

【1級 実技試験】

課題 1:作業の安全

1	2	3	4	5
イ	ウ	キ	オ	ソ
6	7			
サ	エ			

課題 2:新 QC 手法

8	9	10	11	12
イ	エ	ウ	イ	オ
13	14	15	16	17
カ	ウ	イ	ウ	カ
18				
ア				

課題 3:自主保全活動支援ツール

19	20	21	22	23
ウ	イ	ア	オ	サ
24	25	26	27	28
キ	シ	イ	ク	ウ

課題 4:発生源・困難個所対策

29	30	31	32	33
サ	オ	セ	ケ	キ
34	35	36	37	38
ク	ア	イ	シ	ソ

※無断複製転載を禁じます

課題 5:

(選択 A): 設備総合効率 (加工、組立)

39	40	41	42	43
ケ	キ	オ	ク	ウ

(選択 B): プラント総合効率 (装置産業)

39	40	41	42	43
イ	ク	カ	コ	ウ

課題 6: 故障ゼロの考え方

44	45	46	47	48
ア	ク	イ	ウ	オ

課題 7: 作業改善のための IE

49	50	51	52	53
ウ	エ	ア	キ	ア
54	55			
エ	エ			

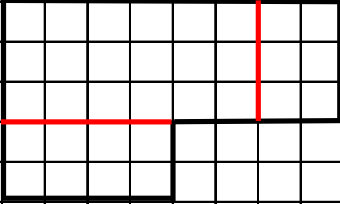
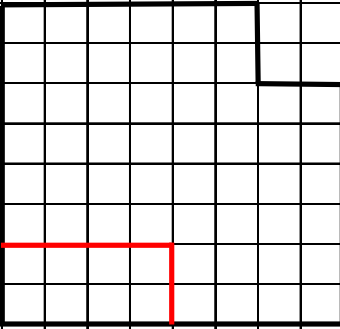
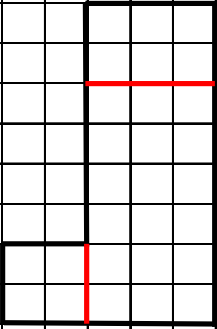
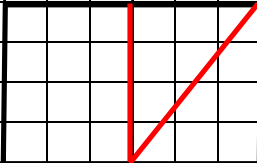
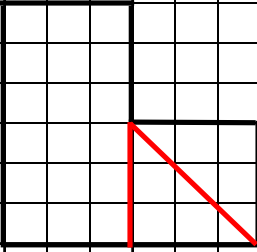
課題 8: 締結部品

56	57	58	59	60
エ	ア	オ	カ	ケ
61	62	63	64	65
コ	サ	キ	ウ	ウ

課題 9: 空気圧

66	67	68	69	70
オ	コ	ア	キ	ケ
71	72	73		
サ	ス	ソ		

課題 10: 図面の見方

課題	図	解答欄											
10	<p>工作物 A</p>	<p>(平面図)</p> 	<p>立体図 省略</p>										
		<p>(正面図)</p> 	<p>(右側面図)</p> 										
	<p>工作物 B</p>	<p>(平面図)</p> 	<p>立体図 省略</p>										
		<p>(正面図)</p> 	<p>(右側面図)</p> 